



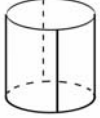



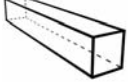


# Begrippen bij "Vormen om je heen"

**Naam:** .....

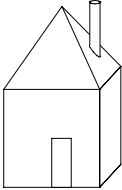
**Klas:** .....

**Datum:** .....

**Opdracht 1** Verbind alle plaatjes met een woord:

	<input type="text" value="Cirkel"/>
	<input type="text" value="Driehoek"/>
	<input type="text" value="Vierkant"/>
	<input type="text" value="Cilinder"/>
	<input type="text" value="Balk"/>
	<input type="text" value="Bol"/>
	
	
	

**Opdracht 2** Welke vormen zie je in onderstaande figuur?  
Schrijf zoveel mogelijk wiskundige vormen op.



.....

.....

.....

**Opdracht 3**

a. Kleur in de foto's wat in het echt een cirkel is.



b. Kleur de lijnen die evenwijdig zijn met de dikke lijn op de foto.



**Opdracht 4**

a. Goed of fout? Zet een kruis bij de goede zinnen.



"Het dakraam is rechthoekig."

"De ramen zijn rond."

"Het balkon is een halve cirkel."

"De palen zijn stompig."

b. Schrijf 3 goede wiskunde zinnen over de vormen in het gebouw:



.....

.....

.....

c. Schrijf ook 3 goede zinnen over de vormen in dit gebouw:



.....

.....

.....



**Opdracht 7**

Teken zelf een schilderij met meetkundige vormen en schrijf de namen van de vormen die je gebruikt:

